



Niveau 3

3.A.1	 An analog clock with a silver frame and a white face. The hour hand is between 10 and 11, and the minute hand is pointing exactly at 2. The numbers 1 through 12 are arranged around the perimeter of the clock face.	<p>Je werkt op de klantenservice bij een groot ICT bedrijf. Elke 10 minuten kun jij een klantvraag beantwoorden. Hoeveel klantvragen kun jij nog beantwoorden voordat het 12:00 uur is?</p>


Niveau3

3.A.2	 <p>€ 14,95 per blik. De week = 20% korting op alle verfsoorten.</p>	<p>Je koopt 3 blikken blauwe verf en 2 blikken rode verf. Je krijgt 20 % korting. Hoeveel korting krijg je?</p>


Niveau 3

3.A.3	 <p>Deze rugtas kost € 45,00</p>	<p>Je wilt deze rugtas kopen. Bij de kassa krijg je 40% korting. Hoeveel betaal je voor deze rugtas?</p>

Niveau 3

3.A.4	 <p>Dit aquarium is 60 cm lang, 40 cm breed en 40 cm hoog.</p>	<p>Om het water vers te houden, moet je er mineralen in doen. 4 ml mineralen per 100 liter water.</p> <p>Hoeveel ml mineralen heb je <u>ongeveer</u> nodig voor dit aquarium?</p>

Niveau 3

3.A.5	<p>Spinazie zalm lasagne voor 4 personen.</p>  <ul style="list-style-type: none">lasagnevellen (250 gr)600 gr verse spinazie300 gr verse zalmfilet450 gr ricotta125 ml melkHandje geraspte kaasSnuf knoflook of 1 geperst teentje2 tomaten in plakken	<p>Je gaat voor 6 personen deze Spinazie zalm lasagne maken. Hoeveel gram verse spinazie heb je dan nodig?</p>

Niveau 3

3.A.6		<p>Normaal = 1 uur jumpstylen voor € 13,50 1^e keer krijg je de actieprij voor € 9,95.</p> <p>Je gaat met 4 personen voor de 1^e keer jumpstylen. Hoeveel euro korting heb je dan gekregen?</p>

Niveau 3

3.A.7



Bowlingbaan

Max 6 personen per 1 baan.

Tarieven voor 18:00 uur = € 25,00 per baan.

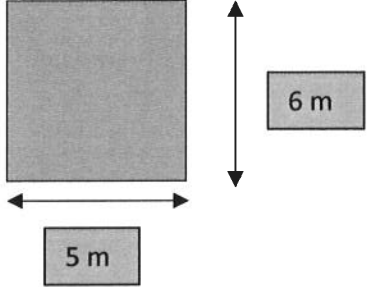
na 18:00 uur = € 30,00 per baan.

Vrijdag, zaterdag, zondag = na 18:00 uur € 35,00 per baan.

Je gaat met 10 personen naar de bowling.
De banen heb je op zaterdag om 19:00 uur gereserveerd.

Iedereen betaald na afloop even veel.
Hoeveel gaat dit per persoon kosten?

Niveau 3

3.A.8	 <p>A diagram of a rectangular garden. The width is labeled as 5 m and the height is labeled as 6 m. The garden is shaded gray.</p>	<p>Je gaat je tuin opnieuw inzaaien met graszaad. 1 doosje graszaad is voor 20 m^2.</p> <p>1 doosje kost € 7,95 Hoeveel geld ben je in totaal kwijt aan graszaad?</p>

Niveau 3

3.A.9



SPORTCLUB:
15% (Badminton)
30% (Korfbal)
55% (Zaalvoetbal)

Dit is de sporthal van sportclub "Geef-nooit-op".
Er zitten totaal 120 mensen op deze sportclub.
Hoeveel zitten er dan op zaalvoetbal?

Niveau 3

3.A.10



Deze visgraat vloer kost € 45 per m².
De woonkamer en de hal wordt visgraat vloer.
Jouw woonkamer is 5 m. lang en 4 m. breed.
De hal is 3 m. lang en 1,5 m breed.

Wat kost deze vloer in totaal?

Niveau 3

3.A.11



Texel.

De vuurtoren van Texel staat op het noordelijkste punt van het eiland Texel.

Welk dorpen liggen hier vlakbij?

Vuurtoren = X

Niveau 3

3.A.12		<p>Door een erfenis krijg jij € 4.500 Daarvan zet je 80% op een spaarrekening. Hoeveel geld is dat?</p> <p>De rest gebruik je voor je woning inrichting. Hoeveel geld is dat voor je woning inrichting?</p>

Niveau 3

3.A13	 <p>Laptop van € 995 voor € 699,⁹⁹</p>	<p>Deze laptop wil je graag hebben. Je krijgt van je opa/oma driekwart. De rest betaal je zelf. Hoeveel moet jezelf dan nog betalen ? (afgerond op hele euro's)</p>

Niveau 3

3.A14

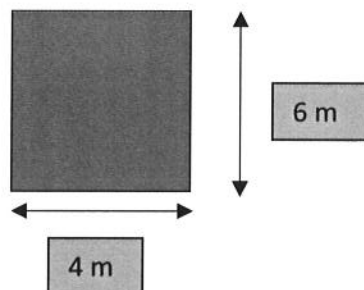


Fietsverhuur:	
Per dagdeel	€ 6,95
Per dag	€ 9,95
Per week	€ 50,00

Je gaat 1 fiets voor 8 dagen huren.
Reken het huren zo voordelig mogelijk uit.
Hoeveel betaal je dan?

Niveau 3

3.A.15



De woonkamer krijgt nieuwe vloerbedekking.
Op rol kost het € 195 per 1 strekkende meter.
De rol is 4 meter breed.

Je laat het door een bedrijf leggen.
Legkosten = € 225,00

Hoeveel geld moet je dan in totaal betalen voor deze kamer?

(Een strekkende meter =
altijd 1 meter lang, maar de breedte verschilt.)

Niveau 3

3.A16

**bruto minimumloon vanaf 1 juli 2020
bij een volledige werkweek van 40 uur
exclusief 8% vakantiegeld**

Leeftijd	Per maand	Per week	Per dag
21 jaar en ouder	€ 1.680,00	€ 387,70	€ 77,54
20 jaar	€ 1.364,00	€ 310,15	€ 62,03
19 jaar	€ 1.008,00	€ 232,60	€ 46,52
18 jaar	€ 840,00	€ 193,85	€ 38,77
17 jaar	€ 683,60	€ 155,13	€ 30,63
16 jaar	€ 579,60	€ 133,75	€ 26,75
15 jaar	€ 504,00	€ 116,30	€ 23,26

Klik op loep voor de vergroting.

Michael is 18 jaar en werkt 8 uur per week.
Wat is zijn bruto minimumloon per maand (zonder
vakantiegeld) ?

Niveau 3

3.A17

**bruto minimumloon vanaf 1 juli 2020
bij een volledige werkweek van 40 uur
exclusief 8% vakantiegeld**


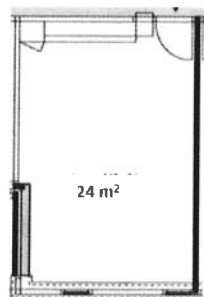
Leeftijd	Per maand	Per week	Per dag
21 jaar en ouder	€ 1.680,00	€ 387,70	€ 77,54
20 jaar	€ 1.344,00	€ 310,15	€ 62,03
19 jaar	€ 1.008,00	€ 232,60	€ 46,52
18 jaar	€ 840,00	€ 193,85	€ 38,77
17 jaar	€ 663,00	€ 153,15	€ 30,63
16 jaar	€ 579,60	€ 133,75	€ 26,75
15 jaar	€ 504,00	€ 116,30	€ 23,26

Klik op loep voor de vergroting.

Karin is 18 jaar en werkt 20 uur per week.
Wat is haar bruto minimumloon per maand (zonder
vakantiegeld) ?

Niveau 3

3.A18



13.17 per pak


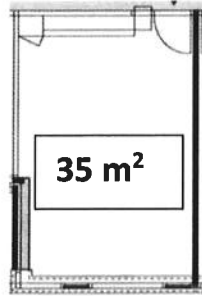
Kleur	- Elken
Bescherm laag	- 0.55 mm
Garantietermijn	- 24 maanden
Materiaal	- HDF
Samenstelling	- HDF 100%
Pakinhoud	- 2.9608 m ²
Aantal stuks	- 12
Afmeting plank	- 128.5x19.2 cm
Milieukennissen	- PEFC (Milieu bewust)

Klik op loep voor de vergroting.

Je gaat laminaat leggen in deze kamer.
Hoeveel pakken laminaat heb je dan nodig?

Niveau 3

3.A19




24.⁹⁵ per pak

Kleur	-	Eiken
Beschermlaag	-	0.55 mm
Garantietermijn	-	24 maanden
Materiaal	-	HDF
Samenstelling	-	HDF 100%
Pakinhoud	-	2.9608 m ²
Aantal stuks	-	12
Afmeting plank	-	128,5x19,2 cm
Milieukenmerken	-	PEFC (Milieu bewust)

Klik op loep voor de vergroting.

Bereken hoeveel pakken laminaat je nodig hebt voor deze kamer EN bereken de prijs.

Niveau 3

3.A20	<table border="1"><thead><tr><th data-bbox="344 368 719 443">Leeftijd</th><th data-bbox="719 368 1491 443"></th><th data-bbox="1491 368 1659 443"></th></tr></thead><tbody><tr><td data-bbox="344 443 719 512"></td><td data-bbox="719 443 1491 512">17 jaar en jonger</td><td data-bbox="1491 443 1659 512">46%</td></tr><tr><td data-bbox="344 512 719 580"></td><td data-bbox="719 512 1491 580">18-19 jaar</td><td data-bbox="1491 512 1659 580">30%</td></tr><tr><td data-bbox="344 580 719 649"></td><td data-bbox="719 580 1491 649">20-21 jaar</td><td data-bbox="1491 580 1659 649">11%</td></tr><tr><td data-bbox="344 649 719 718"></td><td data-bbox="719 649 1491 718">22-25 jaar</td><td data-bbox="1491 649 1659 718">6%</td></tr><tr><td data-bbox="344 718 719 786"></td><td data-bbox="719 718 1491 786">26 jaar en ouder</td><td data-bbox="1491 718 1659 786">7%</td></tr></tbody></table> <p data-bbox="344 754 1211 831">De jongerenorganisatie beroepsonderwijs JOB heeft een vragenlijst laten invullen door mbo studenten.</p> <p data-bbox="344 839 1223 879">Hierboven zie je de leeftijden van de studenten die de vragenlijst hebben ingevuld,</p> 	Leeftijd				17 jaar en jonger	46%		18-19 jaar	30%		20-21 jaar	11%		22-25 jaar	6%		26 jaar en ouder	7%	<p data-bbox="1675 316 1962 443">Hoeveel procent werkt onder de 20 jaar?</p> <p data-bbox="1675 499 2000 584">En hoeveelste deel is dat ongeveer?</p>
Leeftijd																				
	17 jaar en jonger	46%																		
	18-19 jaar	30%																		
	20-21 jaar	11%																		
	22-25 jaar	6%																		
	26 jaar en ouder	7%																		

Niveau 3

<p>3.A21</p>	<p>Schol met champignons Hoofdgerecht 4 personen</p> <p>500 g scholfilet 300 ml droge witte wijn 40 g boter, op kamertemperatuur 250 gr champignons 100 g Hollandse garnalen 1 eetlepel fijngehakte peterselie</p> <p><i>ruime ovenschaal, ingevet bakpapier</i></p> <p>(Klik op het loepje voor de vergroting.)</p>	<p>Je gaat voor 10 personen koken. Hoeveel gram champignons heb je dan nodig?</p>

Niveau 3

3.A22



1 km fiets je ongeveer in 5 minuten.
Je fietst van 8:05 uur tot 9:10 uur.

Hoeveel km heb je dan gefietst?

Niveau 3

3.A23



Deze TGV sneltrein rijdt in 40 minuten 180 km.
Hoeveel km rijdt deze trein in 1 uur?

Niveau 3

3.A24



Deze auto rijdt
1 op 18.
Literprijs = € 1,82

Deze auto rijdt 99 km.
Wat kost deze rit?